

TÜRKÇE TESTİ

(Bu testte;15 Türkçe, 15 Matematik, 5 Din Kültürü ve Ahlak Bilgisi, 10 Fen Bilimleri, 10 Sosyal Bilgiler, 10 İngilizce sorusu vardır. Süre 100 dakikadır.)

Deve Kuşu

Deve kuşu, kanatları küçülen ve uçma yeteneğini kaybeden kuşlar sınıfına giren koşucu-yürüyen kuşlardandır. Afrika'nın doğusu ile güneyindeki sıcak ve kurak iç bölgelerde yaşarlar.

Deve kuşları yeşil ot türlerinin yanında ufak böcekler gibi birtakım canlılarla da beslenir.

Akciğer solunumu yapar, yumurtlayarak çoğalırlar. Kuş türleri içerisinde en büyük yumurtaya sahiptir.

Dışarıdan bir tehlike sezdiklerinde başlarını toprağa gömerler. Bu şekilde görünmez olduklarını düşünürler.



(1 ve 2. soruları metne göre cevaplayınız.)

1. Metne göre deve kuşları hangi kuş grubuna girer?

- A) Yırtıcı kuşlar
- B) Koşucu-yürüyen kuşlar
- C) Su kuşları
- D) Bataklık kuşları

2. Metne göre deve kuşları ile ilgili hangi bilgidен söz edilmemiştir?

- A) Yaşam alanları
- B) Çoğalma şekilleri
- C) Göç ettikleri yerler
- D) Beslenme şekilleri

3. Aşağıdaki kelimelerden hangisi sözlük sıralamasında diğerlerinden daha önce gelir?

- A) Yakın
- B) Yakıt
- C) Yanık
- D) Yankı

4. Aşağıdaki cümlelerin hangisinde “terim anlamlı” kelime bulunmaktadır?

- A) Öğrenciler birinci sahnenin provasını yaptılar.
- B) Dört köşeye sahip olan ve her bir kenarı eşit olan cisme kare denir.
- C) Dünkü maçta 2 gol yedim.
- D) Arkadaşımın geldiğini görünce çok sevindim.

A

5.

L	E	İ	R	T
ne	gel	olursan	yine	ol

Yukarıdaki tabloda harflere karşılık gelen kelimelerle Mevlana'ya ait bir özdeyiş oluşturulacaktır.

Buna göre oluşturulacak özdeyişte kelimelere karşılık gelen harflerin doğru sıralaması hangi seçenekte verilmiştir?

- A) LİTRE B) TERLİ
C) TİRLE D) LİRET

6. Bir gün matematik öğretmeni Mustafa () yı yanına çağırarak () () Bundan sonra senin adın Mustafa Kemal olsun () () demiş ()

Parantez () ile belirtilen yerlere sırasıyla hangi noktalama işaretleri gelmelidir?

- A) (,) (.) (“”) (!) (.)
B) (') (.) (“”) (.) (") (.)
C) (–) (.) (,) (“”) (") (.)
D) (,) (“”) (.) (") (,) (.)

7.

Örnek: “Yağmur yağdığı için pikniğe gidemedik.”

Yukarıdaki örnek cümlede sebep sonuç ilişkisi vardır.

Buna göre aşağıdaki cümlelerin hangisinde sebep-sonuç ilişkisi yoktur?

- A) Şekeri yere düştüğü için ağladı.
B) Yollar kalabalık olduğu için geç kaldı.
C) Bu ağaç iki yıldır çiçek açmadı.
D) Hasta olduğundan oyuna katılmadı.

8. **Aşağıdaki cümlelerin hangisinde altı çizili sözcük mecaz anlamda kullanılmıştır?**

- A) Amcasından beklediği ilgiyi göremeyince kırıldı.
B) Akşama kadar bütün çarşığı gezdi.
C) Doğum günü hediyelerini açınca çok sevindi.
D) Fırına uğrayıp sıcak ekmek aldı.

9. Aşağıdaki cümlelerin hangisinde “-de, -da” ekinin yazımı ile ilgili yanlışlık yapılmıştır?

- A) Yarınki toplantıya ben de katılacağım.
- B) Sende de ne şans var.
- C) Okulda uymamız gereken kurallar vardır.
- D) O kitabı bende okudum.

10. Güneş ailesi harcamalarına dikkat eder, bütçelerine göre harcamalarını yapardı. Gelir ve giderlerini hesaplayıp gereksiz harcamalar yapmazdı.

Yukarıdaki cümlelere göre, “Güneş ailesi”ni ifade eden atasözü hangisidir?

- A) El elden üstündür.
- B) Ava giden avlanır.
- C) Ayağını yorganına göre uzat.
- D) Ev alma komşu al.

11.

Annelerin en güzelisin,
Hep bizi düşünensin,
Sen benim meleğimsin,
Canım annem, güzel annem.

Senden ayrı kalamam,
Yolundan ayrılamam,
Hakkını ödeyemem,
Canım annem, güzel annem.

Ahmet GÜNEŞ

Yukarıdaki şiirin ana duygusu hangisidir?

- A) Yurt Sevgisi
- B) Memleket Özlemi
- C) Anne Sevgisi
- D) Okul Hayatı

12. Aşağıdaki atasözlerinden hangisi anlamca diğerlerinden farklıdır?

- A) İyilik eden iyilik bulur.
- B) Üzüm üzüme baka baka kararır.
- C) Ne doğrarsan aşına, o çıkar kaşığına.
- D) Ne ekersen onu biçersin.

13. Ezgi sabah erkenden uyandı. Uzun zamandır görmediği abisini akşam görecekti. Ezgi sürekli saate bakıp duruyordu. En güzel kıyafetlerini giymiş, abisini görmek için sabırsızlanıyordu.

Ezgi'nin içinde bulunduğu durumu ifade eden deyim aşağıdakilerden hangisidir?

- A) İçi içine sığmamak
- B) Açık kapı bırakmak
- C) Can kulağı ile dinlemek
- D) Ağzından çıkanı kulağı duymak

14. Kedim Boncuk masmavi gözleri ile bana bakıyordu. Sıcaktan bunalmış yıkanmak istiyordu. Hemen kedimi banyoya götürüp yıkadım. Bembeyaz tüylerini kuruttum. Tertemiz olan kedim mışıl mışıl uyudu. Zil çalınca kedim Boncuk birdenbire irkildi. Çok korktu.

Altı çizili kelimelerden hangisinde pekiştirme anlamı yoktur?

- A) masmavi
- B) birdenbire
- C) bembeyaz
- D) tertemiz

15. Adamın biri dere kenarından geçerken gözü dere kenarındaki güvercine takılmış. Adam ağacın arkasına gizlenerek güvercini izlemeye başlamış. Güvercinin su içeceğini düşünmüş. Fakat güvercin başını sağa sola çevirerek, kanatlarını açıp kapatarak sudaki yansımasına bakıyormuş.

Yukarıdaki metinde hangi hikaye unsuruna yer verilmemiştir?

- A) Kişi
- B) Olay
- C) Yer
- D) Zaman

**TÜRKÇE TESTİ BİTTİ.
MATEMATİK TESTİNE GEÇİNİZ.**

MATEMATİK TESTİ

1. $8 \times 3 = 17 + \blacktriangle$
 $24 : 3 = 22 - \star$
 $15 + 9 = 6 \times \blacksquare$

Yukarıda verilen eşitliklere göre “ $\blacktriangle + \star + \blacksquare$ ” işleminin sonucu kaçtır?

- A) 21 B) 22 C) 24 D) 25

2. Bir ilkokulda 350 öğrenci vardır. Bu öğrencilerin $\frac{3}{5}$ 'ü erkek öğrenci, geri kalanları ise kız öğrencidir.

Buna göre okuldaki kız öğrenci sayısı kaçtır?

- A) 210 B) 140 C) 250 D) 150

3. 654.320 doğal sayısının basamak değerleri toplamı ile sayı değerleri toplamı arasındaki fark kaçtır?

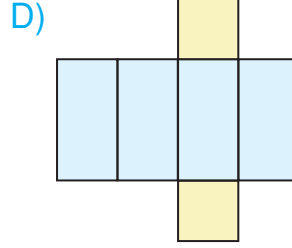
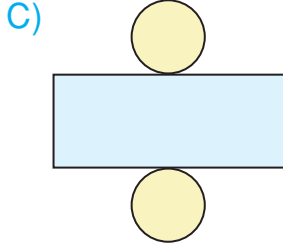
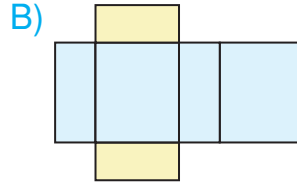
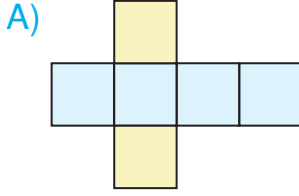
- A) 654.300 B) 654.340 C) 654.000 D) 654.310

4. $\frac{4}{5}, \frac{9}{6}, \frac{3}{12}, \frac{4}{9}, 2\frac{3}{5}, \frac{5}{5}$

Yukarıda verilen kesirlerden kaç tanesi basit kesirdir?

- A) 1 B) 2 C) 3 D) 4

5. Aşağıdaki geometrik cisim açılımlarından hangisi kare prizmaya aittir?



6.

Kütüphanedeki kitaplar	
Öykü	120
Şiir	100
Roman	150
Masal	80

Yandaki tabloda bir kütüphanedeki kitapların türlerine göre sayıları verilmiştir.

Buna göre kütüphanedeki kitapların toplamı kaçtır?

A) 410

B) 405

C) 415

D) 450

7. ■ 254.125 → iki yüz elli dört bin yüz yirmi beş

● 124.243 → yüz yirmi dört bin iki yüz kırk üç

★ 356.023 → üç yüz kırk altı bin yirmi üç

▲ 435.144 → dört yüz otuz beş bin yüz kırk dört

Yukarıda doğal sayılar ve okunuşları verilmiştir.

Hangi doğal sayının okunuşu yanlış verilmiştir?

A) ■

B) ●

C) ★

D) ▲

8. Bir bölme işleminde bölen 20, bölüm 12, kalan 15 ise, bu bölme işleminde bölünen kaçtır?

A) 252

B) 253

C) 254

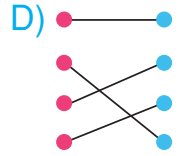
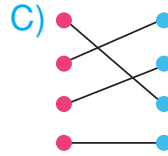
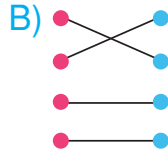
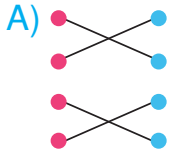
D) 255

9.

1 m 40 cm	•	•	275 cm
2 m 75 cm	•	•	140 cm
1 km 150 m	•	•	3125 m
3 km 125 m	•	•	1150 m

Yukarıda verilen uzunluk ölçüleri eş değerleri ile eşleştirilecektir.

Eşleştirme sonucunda görünüm nasıl olur?



10.

$$585 \times 24 =$$

Yukarıdaki çarpma işleminde verilen çarpanları en yakın onluğa yuvarlandığında tahmini sonucu kaç olur?

A) 11600

B) 11700

C) 11800

D) 11900

11. Defne her gün 6 saat 45 dakikasını okulda geçirmektedir.

Buna göre Defne okulda toplam kaç dakika vakit geçirmektedir?

A) 390

B) 395

C) 400

D) 405

12. Fatih öğretmen öğrencilere yapacağı etkinlik için sınıfa 5 paket kürdan getirmiştir. Her pakette 200 kürdan bulunmaktadır. Getirdiği kürdanları sınıftaki öğrencilere eşit bir şekilde dağıtmıştır.

Bu sınıfta 25 öğrenci olduğuna göre Fatih öğretmen her bir öğrencisine kaç kürdan dağıtmıştır?

- A) 60 B) 50 C) 40 D) 30

- 13.

P C E G O H

Yukarıda verilen harflerden kaç tanesinin simetri doğrusu vardır?

- A) 1 B) 2 C) 3 D) 4

14. “Tüm kenarları birbirine eşit olan üçgene denir.”

Yukarıda verilen cümlede boş bırakılan yere aşağıdakilerden hangisi gelmelidir?

- A) Eşkenar üçgen B) Çeşitkenar üçgen
C) İkizkenar üçgen D) Çokkenar üçgen

15. Arzu Hanım elindeki kumaşın $\frac{3}{8}$ 'ü 60 metre olan kumaşı satmıştır.

Arzu Hanım'ın bu satıştan sonra kaç metre kumaşı kalmıştır?

- A) 80 B) 60 C) 100 D) 120

MATEMATİK TESTİ BİTTİ.

DİN KÜLTÜRÜ VE AHLÂK BİLGİSİ TESTİNE GEÇİNİZ.

DİN KÜLTÜRÜ VE AHLÂK BİLGİSİ TESTİ

1. Hz. Muhammed'in Mekke'den Medine'ye göç etmesine "hicret" denir.

Mekke'den Medine'ye göç eden müslümanlara "muhacir" denir.

Muhacirlere destek olan Medineli müslümanlara "ensar" denir.

Yukarıdaki ifadelerden doğru olanların başına "D" yanlış olanların başına "Y" yazıldığında görünüm nasıl olur?

- A) D Y C) D Y
 Y Y D D
 D D D D

2. • Allah'a iman
• Meleklerle iman
• Kitaplara iman
• Peygamberlere iman
• Ahirete iman
• Kaza ve kadere iman

Yukarıda verilenlerden kaç tanesi İmanın şartlarındandır?

- A) 6 B) 5 C) 4 D) 3

3. Aşağıdakilerden hangisi İslam'ın geldiği dönemde yanlış olan inanç ve uygulamalardan biri **değildir**?

- A) Kan davaları B) Putperestlik
C) Falcılık D) Merhamet

4. Güzel davranışlı ve iyi huylu kimse-
lere "güzel ahlaklı" denir.

Verilen tanıma göre aşağıdakilerden hangisi güzel ahlaklı bir insanda bulunması gereken özelliklerden **değildir**?

- A) Sabırlı olmak
B) Dürüst olmak
C) Bencil olmak
D) Hoşgörülü olmak

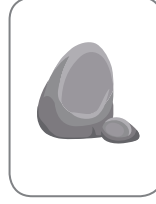

5. Aşağıdakilerden hangisi Hz. Muhammed (s.a.v) için **söylenemez**?

- A) Üstün ahlâka sahipti.
B) Aile büyüklerine saygıda kusur etmezdi.
C) İnsanlara kaba ve kırıcı davranırdı.
D) Kimseye haksızlık etmez ve kim-
senin hakkını yemezdi.

*DİN KÜLTÜRÜ VE AHLÂK BİLGİSİ TESTİ BİTTİ.
FEN BİLİMLERİ TESTİNE GEÇİNİZ.*

FEN BİLİMLERİ TESTİ

1.



Yukarıda verilen nesnelere kaç tanesi suda **batmaz**?

A) 2

B) 3

C) 4

D) 5

2. “İçinde gökbilim aygıtları bulunan ve gökyüzü gözlemleri yapılan yere gözlemevi denir. Gözlemevleri yerleşim yerleri dışına kurulmaktadır.”

Gözlemevlerinin yerleşim yerlerinin dışına yapılmasının nedeni aşağıdakilerden hangisidir?

A) Yerleşim yerlerinde çok gürültü olduğu için

B) Yerleşim yerlerinde ışık kirliliği olduğu için

C) Gözlem yapan kişilerin, yerleşim yeri dışında yaşamak istemeleri

D) Sadece doğal ortamlarda gözlem yapılabildiği için

3. I. Bulunduğu kabın şeklini alır.

II. Belli bir hacmi vardır.

III. Akışkandır.

Yukarıdaki özellikleri taşıyan madde hangisi olabilir?

A) Limonata

B) Küp şeker

C) Kitap

D) Kalem

4. Sıvı maddeler, ısı vererek yani soğuyarak, katı hale geçer.

Bu olaya ne ad verilir?

A) Buharlaştırma

B) Isınma

C) Erime

D) Donma

5. Melisa, koltuktan kalktığıında şeklinin değiştiğini gözlemledi. Melisa, bu durumunun sebebini babasına sorduğunda babası: Koltuğun içerisinde esnek yapıda bir madde olduğunu ve esnek maddelerin üzerindeki kuvvet kalktığıında eski şekillerine geri dönebildiklerini belirtti.

Verilen anlatıma göre aşağıdaki maddelerden hangisi esnek bir maddedir?

- A) Oyun hamuru B) Pil C) Yay D) Misket

6. Maddelerin ısı alışverişi, maddelerin ısı alışverişi eşitlendiğinde son bulur.
- Isı akışı sıcak maddeden soğuk maddeye doğru olur .
- Isı alan soğuk maddenin sıcaklığı azalır.
- Isı veren sıcak maddenin sıcaklığı azalır.

Yukarıdaki ifadelerden doğru olanların başına “D” yanlış olanların başına “Y” yazıldığında görünüm nasıl olur?

- A) D
 D
 Y
 D
- B) D
 Y
 Y
 D
- C) Y
 D
 Y
 D
- D) D
 D
 Y
 Y

7. **Aşağıdaki karışım ve ayırma yöntemlerinden hangisi doğrudur?**

- A) Talaş ve kum karışımı → Mıknatıs ile ayırma
- B) Nohut ve mercimek karışımı → Buharlaştırma ile ayırma
- C) Un ve demir tozu karışımı → Mıknatıs ile ayırma
- D) Kum ve taş karışımı → Yüzdürme yöntemi

8. Aşağıdakilerden hangisi, işitme problemi olan kişilerin, işitme duyusunu geliştirmeye yönelik kullandığı ses teknolojilerinden biridir?



9. Aşağıdakilerden hangisi günümüzdeki ışık kaynaklarından biri **değildir**?



10.

1 Baş ağrısı

2 Uykusuzluk

3 Sinirlilik

4 Göz ağrısı

5 İşitme kaybı

Yukarıdakilerden hangileri ses kirliliğinin insan sağlığı üzerindeki etkilerindedir?

A) 1 – 2 – 3 – 5

B) 1 – 3 – 4 – 5

C) 1 – 2 – 4 – 5

D) 2 – 3 – 4 – 5

FEN BİLİMLERİ TESTİ BİTTİ.
SOSYAL BİLGİLER TESTİNE GEÇİNİZ.

SOSYAL BİLGİLER TESTİ

1. İnsanları birbirinden ayıran özelliklere ne denir?

- A) Bireysel farklılıklar
- B) Arkadaşlık
- C) Sorumluluk
- D) Ortak değer

2. Aşağıdakilerden hangisi yanlıştır?

- A) İhtiyaçlar kişilere göre değişiklik gösterebilir.
- B) İsteklerimiz ihtiyaçlarımızdan daha önemlidir.
- C) İstekler çok çeşitlidir.
- D) Barınma temel ihtiyaçlardan biridir.

3. Çocuk Hakları Sözleşmesi 20 Kasım 1989'da Türkiye'nin de aralarında bulunduğu 142 ülke tarafından imzalanarak 1990 yılında yürürlüğe girmiştir. Her yıl 20 Kasım günü bu ülkelerde Dünya Çocuk Hakları Günü olarak kutlanır.

Yukarıdaki paragrafa göre Dünya Çocuk Hakları Günü ile ilgili verilen bilgilerden hangisine ulaşamaz?



- A) 20 Kasım 1989'da imzalanmıştır.
- B) Ülkemiz bu sözleşmede yer almamıştır.
- C) 142 ülke tarafından imzalanmıştır.
- D) Sözleşme 1990 yılında yürürlüğe girmiştir.

4. Yüzümüzü pusulanın renkli ucunun gösterdiği yöne dönersek sol kolumuz hangi yönü gösterir?

- A) Batı
- B) Doğu
- C) Güney
- D) Kuzey

5. Doğal unsurlar doğada kendiliğinden bulunur. Oluşumunda insanların herhangi bir etkisi yoktur.

Verilen bilgilere göre aşağıdakilerden hangisi doğal unsurlardan biri değildir?



6. İzmir'de yayımlanan Hukukubeşer gazetesinin başyazarıydı. 15 Mayıs 1919 sabahı İzmir rıhtımına çıkan Yunan askerlerine ilk kurşunu sıkarak Milli Mücadele'nin sembol isimlerinden biri oldu.

Yukarıda sözü edilen Milli Mücadele kahramanı kimdir?

- A) Yörük Ali Efe
- B) Hasan Tahsin
- C) Sütçü İmam
- D) Ali Saip Bey

7. Türk milleti zengin bir kültüre sahiptir. Bayramda büyükleri ziyaret etmek, misafirlere ikramda bulunmak, düğünlerimiz milli kültür öğelerimizdendir. Evlerimizde milli kültürümüzü yansıtan eşyalar da vardır.

Verilen bilgilere göre aşağıdakilerden hangisi milli kültürümüzü yansıtan eşyalardan biri değildir?



8. Aşağıdakilerden hangisi sağlık alanında kullanılan teknolojik ürünlerden biri değildir?

- A) Projeksiyon cihazı
- B) Stetoskop
- C) Ultrason
- D) Tomografi

9. Madencilik denilince aklımıza ilk gelen taş kömürü hangi ilimizde çıkarılmaktadır?

- A) Konya
- B) Antalya
- C) Zonguldak
- D) İzmir

10. Tekerlekli sandalyesi ile kaldırıma çıkmaya çalışan engelli bir çocuğu gören Cangül, bir an kendini onun yerine koyarak engelli çocuğun yardımına koştu.


Yukarıdaki yaşanan olayda Cangül'ün hangi olumlu özelliğe sahip olduğu söylenebilir?

- A) Planlı olma
- B) Empati kurma
- C) Çıkarıcı olma
- D) Duyarsız olma

**SOSYAL BİLGİLER TESTİ BİTTİ.
İNGİLİZCE TESTİNE GEÇİNİZ.**

İNGİLİZCE TESTİ

1.



Görsellere göre aşağıdaki bilgilerden hangisi doğrudur?

- A) I like play tennis.
- B) I don't like swimming.
- C) I like play basketball.
- D) I like play football.

2.



Yandaki görseli ifade eden seçenek hangisidir?

- A) glass
- B) goggles
- C) magnifier
- D) bottle

3. Görseldeki forma numarası hangi seçenekte doğru verilmiştir?



- A) twenty-one
- B) thirty-three
- C) twenty-three
- D) twenty-four

4. "My country is in the north."

Yukarıda altı çizili sözcüğün zıt anlamlısı hangi seçenekte verilmiştir?

- A) east
- B) west
- C) south
- D) castel

5.



Doll the table.

Görsele göre boşluğa ne gelmelidir?

- A) under
- B) in
- C) on
- D) behind

6.



Görsele göre verilen bilgilerden hangisi yanlıştır?

- A) He has blonde hair
- B) He has blue eyes.
- C) He's thin
- D) He's fat.

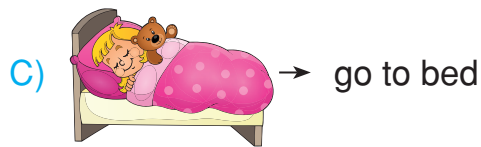

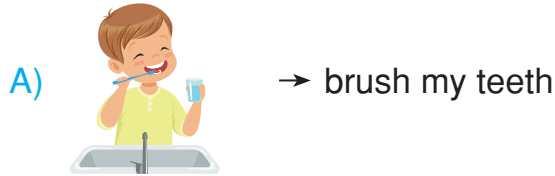
7.



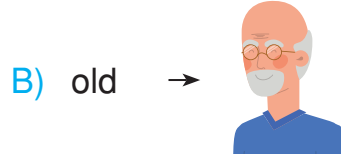
Yukarıdaki görsel hangi mesleği ifade etmektedir?

- A) Singer B) Teacher
C) Doctor D) Chef

8. Aşağıdaki resim - cümle eşleştirmelerinden hangisi **yanlıştır**?



9. Aşağıdaki seçeneklerin hangisinde görsel - anlam eşleştirmesi **yanlış** verilmiştir?



10.



Diyaloğa göre boşluğa ne gelmelidir?

- A) No, I can't.
B) Yes I can.
C) I can ride a bike.
D) I can't ride a bike.

TEST BİTTİ. CEVAPLARINIZI KONTROL EDİNİZ.