

# 4. SINIF

**A**  
Kitapçık  
Türü

## Türkiye Geneli Ölçme ve Değerlendirme Sınavı

Adı ve Soyadı : .....

Sınıfı / Şubesi : ..... Öğrenci No. : .....

DERS ADI	SORU SAYISI	TOPLAM SORU SAYISI	SINAV SÜRESİ (DAKİKA)
TÜRKÇE	15	70	80
MATEMATİK	15		
SOSYAL BİLGİLER	15		
FEN BİLİMLERİ	15		
İNGİLİZCE	10		

### ÖĞRENCİLERİN DİKKATİNE!

- Öğrenci yoklama listesinde belirtilen sınıfta ve sıra numarasında oturunuz.
- Kitapçık türünü ve sınav numarasını cevap kâğıdındaki ilgili alana kodlayınız.
- Cevap kâğıdı üzerindeki kodlamaları kurşun kalemle yapınız.
- Yanlış cevaplar doğru cevapları götürmemektedir.

SINAV NUMARASI

1 2 3 4 5 6



KITAPÇIK  
TÜRÜ

A B

**6. SINAV**



1. Konusu sokak oyunları olan bir metinde aşağıdaki görsellerden hangisinin kullanılması uygun olmaz?





2. Bellek; bir bilgiyi kodlama, saklama ve sonrasında geri çağırma yeteneği olarak tanımlanmıştır. Yani bu süreci, elde edilen bir bilginin belleğe yerleştirilmesi, bellekte tutulması ve hatırlanması olarak da düşünebilirsiniz. Bilim insanları bellekten bahsederken onu duyuşal, kısa süreli ve uzun süreli olmak üzere üç gruba ayırır. Göz, kulak ya da burun gibi duyu organlarımızla algıladığımız bilgiler en fazla 4 saniye gibi çok kısa bir süreliğine duyuşal bellekte yer edinir. Yeterince dikkat verilerek algılandığında bu bilgiler kısa süreli belleğe aktarılır. Burada yaklaşık 20 ila 30 saniye arasında kalır. Uzun süreli bellekteki bilgilerse günlerce hatta belki aylarca hatırlanabilir.

**Bu metinde aşağıdaki sorulardan hangisinin cevabı yoktur?**

- A) Bellek nedir?  
 B) Bilim insanları belleği kaç gruba ayırır?  
 C) Hangi bellek türünde bilgiler daha uzun süreli kalır?  
 D) Belleği güçlendirmek için yapılması gerekenler nelerdir?

3. Ben bir kuşum. Ama hangi kuş olduğumu hadi sen bil. Birkaç ipucu ister misin? Upuzun bacaklarım, zarif bir boynum, çok güzel gözlerim ve uzun bir gagam var ama leylek değilim. Kanatlarımda göz alıcı bir beyaz renk, uçlarımda ise bazen mavi, bazen siyah, bazen de yeşil tüylerim var. Hayır ördek de değilim. Bazı türlerimin tepesinde bir tutam parlak al renginde tüyler bulunur. Hayır, bilemediniz; flamingo da değilim. Ben bir "turna" yım.

**Buna göre hangisi metinde özellikleri anlatılan kuşa ait bir görsel olabilir?**



4. Aşağıdaki cümlelerin hangisinde "bakmak" sözcüğü "beslemek, geçindirmek" anlamında kullanılmıştır?

- A) Caddeye bakan taraftan bir dükkân tuttu.
- B) Öğleden sonra birkaç hastaya daha baktı.
- C) Aldığı maaşla ailesine anca bakıyor.
- D) Yeni çıkan telefonlara bakmak için buraya geldi.

5. Arkadaşlarına çok kızmıştı. Mert ve Fatih'in birbirlerine yaptığı sulu şakadan onun çantası da nasibini almıştı. Yarın sınav vardı ve tüm kitapları ıslanmıştı. Onları uyarmasına rağmen Mert ve Fatih ısrarla devam etmişlerdi. Canı sıkılmış, olan biten karşısında - - - - .

Yukarıdaki metin anlam bütünlüğü korunarak bir deyimle devam ettirilmek istenmektedir.

**Buna göre metin hangi ifade ile devam ettirilemez?**

- A) ağız kulaklarına varmıştı
- B) küplere binmişti
- C) sinirleri iyice gerilmişti
- D) tepesi atmıştı

6. Ay'ın aslında belirli bir görüntüsü, şekli vardır ve bu hiç değişmez. Güneş'ten ışık alır ve bu ışığı da bir ayna gibi bize yansıtır. Ancak Ay, Dünya'mızın etrafında dolaştığı için bulunduğu yer sürekli değişir. Bulduğu yer değişince de Güneş'ten aldığı ve Dünya'ya yani bize yansıttığı ışık da değişir. İşte biz bundan dolayı Ay'ı hep farklı şekillerde görürüz.

**Bu metnin konusu aşağıdakilerden hangisidir?**

- A) Gelişmiş teleskoplar ve Ay gözlemciliği
- B) Gök cisimlerinin birbirlerine etkileri
- C) Dünya'dan Ay'ı gözlemlemenin zorlukları
- D) Ay'ın gökyüzünde farklı şekillerde görünmesinin nedeni

7. Ayşe Öğretmen, öğrencilerinden defterlerine birer cümle yazmalarını istemiştir. Bunun üzerine Ali terim anlamı, Vedat mecaz anlamı ve Selim gerçek anlamı bir sözcüğün kırmızı renkle gösterildiği bir cümle yazmıştır. Aşağıda bu cümleler karışık olarak verilmiştir.

1. **İnce** davranışlarıyla hepimizin beğenisini kazandı.
2. Matematik dersinde tahtaya iki tane **açı** çizdim.
3. Eşyalarımı dolaptaki **boş** raflara yerleştirdim.

**Buna göre, numaralanmış cümleler kime aittir?**

- |             |             |
|-------------|-------------|
| A) 1. Ali   | B) 1. Vedat |
| 2. Vedat    | 2. Ali      |
| 3. Selim    | 3. Selim    |
| C) 1. Selim | D) 1. Vedat |
| 2. Vedat    | 2. Selim    |
| 3. Ali      | 3. Ali      |

8. Çikolatayı  
Ve yaş pastayı  
Ne çok severim.

Tombul fıstığı  
Çıtır fıncığı  
Ne çok severim.

Tatlı mı tatlı  
Sevgi kanatlı,  
Güzel annemi  
En çok severim

Bestami Yazgan

**Bu şiirde şair hangisini diğerlerinden daha çok sevmektedir?**

- |                   |                |
|-------------------|----------------|
| A) Annesini       | B) Çikolatayı  |
| C) Tombul fıstığı | D) Yaş pastayı |

9. 1. Bu projede ben de görev almak istiyorum.  
2. Köyün içinden geçen çay yazın kurumuş.  
3. Diyar diyar gezip bir çare aradı.  
4. Kıyafetlerin bu kadar ucuz olduğunu bilmiyordum.

**Numaralanmış cümlelerle ilgili verilen bilgilerden hangisi yanlıştır?**

- A) 1. cümlede "vazife" sözcüğünün eş anlamlısı olan bir sözcük kullanılmıştır.  
B) 2. cümlede kullanılan "çay" sözcüğü sestestir.  
C) 3. cümlede "hastalık" sözcüğünün eş anlamlısı olan sözcük kullanılmıştır.  
D) 4. cümlede "pahalı" sözcüğünün zıt anlamlısı olan sözcük kullanılmıştır.

10.

1	her zaman	2	çalışan
3	olmuştur	4	başarılı
5	planlı	6	insanlar

**Numaralanmış ifadelerle anlamlı ve kurallı bir cümle yazıldığında ifadelerin sıralaması nasıl olur?**

- A) 1 - 4 - 3 - 5 - 2 - 6  
B) 2 - 4 - 3 - 1 - 6 - 5  
C) 4 - 3 - 1 - 5 - 2 - 6  
D) 5 - 2 - 6 - 1 - 4 - 3
11. Küçük harflerle yapılan kısaltmalara getirilen eklerde kelimenin okunuşu, büyük harflerle yapılan kısaltmalara getirilen eklerde ise kısaltmanın son harfinin okunuşu esas alınır.

**Buna göre aşağıdaki kısaltmalardan hangisine gelen ek doğru yazılmıştır?**

- A) TDK'dan  
B) TRT'den  
C) TL'sinin  
D) kg'den

**12. Aşağıdakilerin hangisinde ( ) ile belirtilen yerlere sırasıyla ünlem (!) ve soru işareti (?) getirilmelidir?**

- A) Eyvah ( ) ekmekleri evde unuttum ( )  
B) Ankara( )ya sen de gelecek misin ( )  
C) Hey ( ) Orada kim var ( )  
D) Peki ( ) okuldan sonra uğrarım ( )

**13. Aşağıdaki cümlelerin hangisinde hayali bir anlatım söz konusudur?**

- A) Yirmi yıl sonra buraya geri dönmüştü.  
B) Küçük tavşan, yuvasında tek başına kalmıştı.  
C) Dedemin yıllar önce diktiği ağacın altında oturuyorduk.  
D) Çiçekler toplanmış, güneşin doğuşunu kutluyorlardı.

**14. Aşağıdaki cümlelerin hangisinde sayıların yazımı ile ilgili yanlış bir kullanım vardır?**

- A) Bahçedeki herkese 2'şer tane elma düşüyor.  
B) Yüz seksen iki gün sonra emekli olabileceğim.  
C) Bu apartmanın 7. katında dayımlar oturuyor.  
D) 13.50'de teneffüs zili çalınca bahçeye çıktık.

**15. Aşağıdakilerden hangisi bir metnin giriş cümlesi olabilir?**

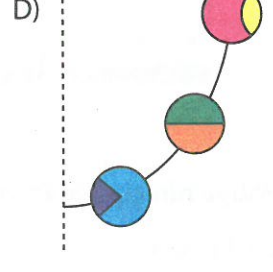
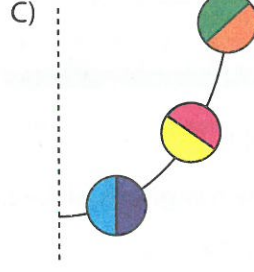
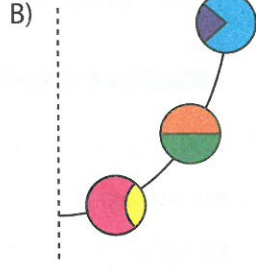
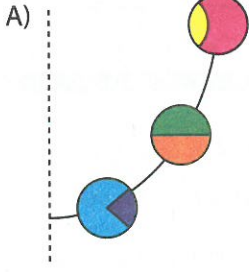
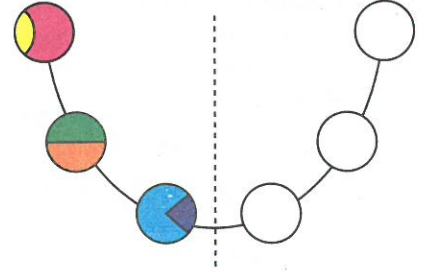
- A) Özellikle kuzeye bakan taraf daha da soğuk oluyordu.  
B) Mehmet, sıcak bir yaz günü hayvanlarını otlatmak için yaylaya gitmişti.  
C) Bu haber üzerine diğer akrabaları da Erzurum'dan yola çıkmıştı.  
D) Sonuç olarak Mustafa'nın buraya gelişi herkesi etkilemişti.

*Türkçe testi bitti.  
Matematik testine geçiniz.*

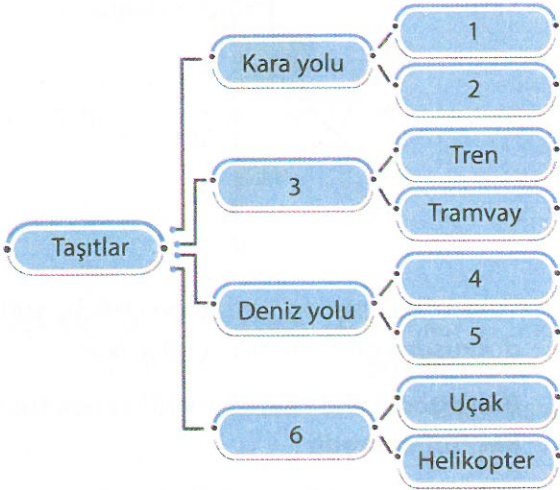


1. Yanda bir kısmı verilen kolyenin verilmeyen kısmı diğerinin simetriğidir.

Buna göre bu kolyenin verilmeyen kısmı hangisidir?



2.



Yukarıdaki ağaç şeması ile ilgili verilenlerden hangisi yanlıştır?

- A) 6 numaralı bölüme "sıcak hava balonu" yazılabilir.  
 B) 3 numaralı bölüme "demir yolu" yazılmalıdır.  
 C) 1 numaralı bölüme "kamyonet" yazılabilir.  
 D) Suda hareket eden araçlar 4 ve 5 numaralı bölümlere yazılmalıdır.

3.

$$18 \div \blacksquare = (12 \times 3) \div 4$$

$$(19 - 15) + 3 = 28 \div \bullet$$

Verilen eşitliklere göre  $\blacksquare \times \bullet$  işleminin sonucu hangisidir?

- A) 4      B) 8      C) 16      D) 20

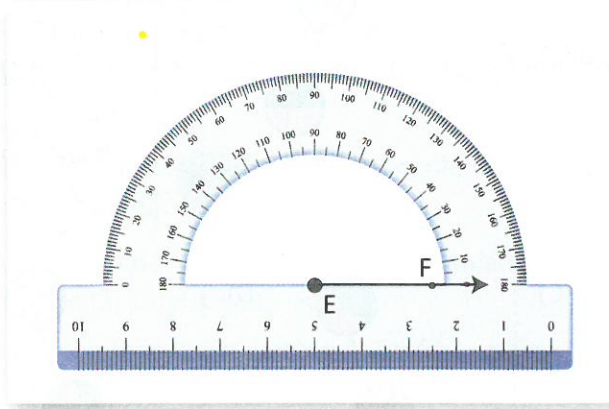
4.

$$3 \frac{5}{16} + 2 \frac{3}{16} = ?$$

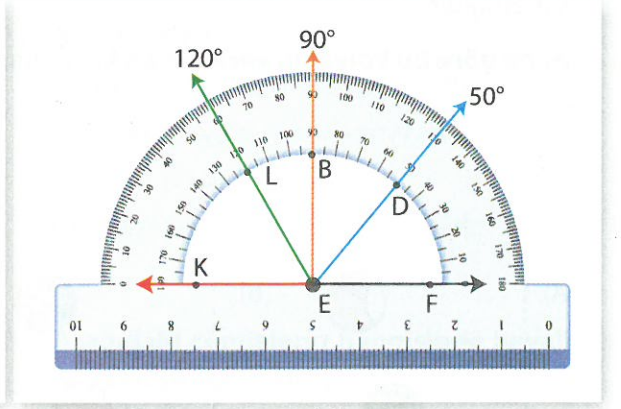
Yukarıdaki işlemin sonucu kaçtır?

- A)  $\frac{8}{16}$       B)  $3 \frac{11}{16}$       C)  $5 \frac{8}{16}$       D)  $8 \frac{2}{16}$

5. Müge, iletke kullanarak önce Şekil 1'deki gibi EF ışını, sonra da Şekil 2'deki gibi diğer ışınları çizmiştir.



Şekil 1

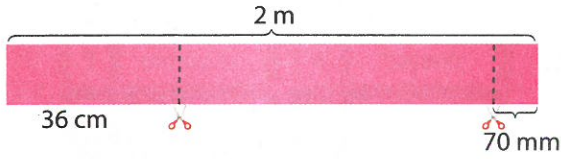


Şekil 2

Müge'nin çizdiği EF ışını ile hangi ışın birleştirilirse oluşan açı geniş açı olur?

- A) EL ışını      B) EK ışını      C) EB ışını      D) ED ışını

6.



2 metre uzunluğundaki bir kurdelenin bir ucundan 36 cm, diğer ucundan ise 70 mm'lik kısım kesiliyor.

Buna göre geriye kalan kurdelenin uzunluğu kaç cm'dir?

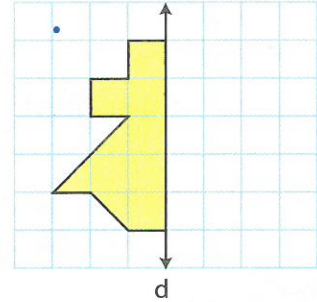
- A) 48 cm      B) 94 cm  
C) 106 cm      D) 157 cm

7. Erdem yaptığı bölme işleminin doğruluğunu kontrol etmek için  $(37 \times 13) + 11$  işlemini yapıyor.

Buna göre Erdem'in yaptığı bölme işlemi aşağıdakilerden hangisidir?

- A)  $444 \div 37$       B)  $481 \div 37$   
C)  $492 \div 37$       D)  $546 \div 13$

8.



Yukarıdaki kareli kâğıt üzerine çizilmiş şeklin d doğrusuna göre simetrisi çizilecektir.

Buna göre şekil ve simetrisinin alanı toplam kaç birimkaredir?

- A) 7      B) 10      C) 15      D) 17

9.



Yukarıdaki sayı örüntüsünde sarı ve mavi kutulara yazılacak sayıların toplamı kaçtır?

- A) 535      B) 622      C) 651      D) 738



10.  $\frac{13}{\star}$  bileşik bir kesirdir.

★

Buna göre ★ yerine yazılabilecek en büyük doğal sayı kaçtır?

- A) 15      B) 14      C) 13      D) 9

11. Ada, aşağıdaki cetvelle kaleminin uzunluğunu şekildeki gibi ölçmüştür.




Ömer ise silgisinin uzunluğunu tahmin ederken Ada'nın kaleminin uzunluğunun yarısından az olduğunu söylemiştir.

Buna göre Ömer'in tahmini aşağıdakilerden hangisi olabilir?

- A) 5 cm      B) 8 cm  
C) 11 cm      D) 12 cm

12. Aşağıda çevre uzunluğu 24 cm olan turuncu renkli kare ile mavi renkli dikdörtgen, ortak kenarlarından birleştirilerek yeni bir şekil oluşturulmuştur.



Mavi dikdörtgenin uzun kenarı, kısa kenarının iki katıdır.

Buna göre mavi dikdörtgenin çevre uzunluğu kaç cm'dir?

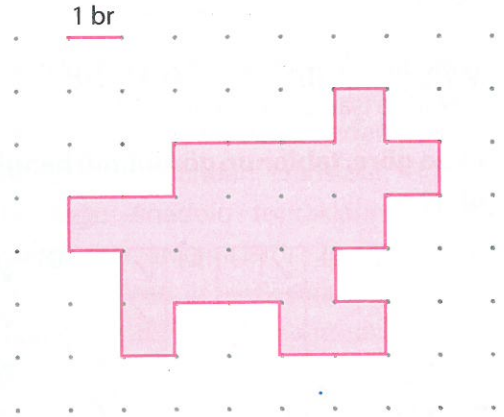
- A) 12      B) 24      C) 36      D) 48

13. Saatteki hızı 80 km olan bir otobüsün 7 saatte gittiği yolu bir otomobil 5 saatte gitmektedir.

Buna göre bu otomobilin saatteki hızı kaç km'dir?

- A) 105      B) 112      C) 115      D) 120

14.



Yukarıdaki şeklin çevresi, uzun kenarı 9 birim olan bir dikdörtgenin çevresine eşittir.

Buna göre dikdörtgenin kısa kenarı kaç birimdir?

- A) 15      B) 12      C) 8      D) 5

15. Bir futbol karşılaşması başladığında saat 19.00'u göstermektedir. Maç, devre arası ve uzatmalar dâhil başladıktan 117 dakika sonra bitmiştir.

Buna göre maç bittiğinde saat kaç göstermektedir?

- A) 20.57      B) 21.17      C) 21.57      D) 22.30

**Matematik testi bitti.  
Sosyal bilgiler testine geçiniz.**


İfadeler	İlgi	Yetenek
Koray, ağaçların fotoğraflarını çekmekten çok hoşlanır.		
Ayça, satranç oynamayı çok sever.		
Emre, çok iyi şarkı besteler.		
Büşra, yaptığı resimlerle her zaman dereceye girer.		


Tablodaki ifadeler ilgi ve yetenek olarak değerlendirilip işaretlenecektir.


**Buna göre, tablonun görünümü hangisi gibi olur?**


A) <table border="1"><tr><td></td><td>✓</td></tr><tr><td></td><td>✓</td></tr><tr><td>✓</td><td></td></tr><tr><td>✓</td><td></td></tr></table>		✓		✓	✓		✓		B) <table border="1"><tr><td>✓</td><td></td></tr><tr><td></td><td>✓</td></tr><tr><td></td><td>✓</td></tr><tr><td>✓</td><td></td></tr></table>	✓			✓		✓	✓		C) <table border="1"><tr><td>✓</td><td></td></tr><tr><td>✓</td><td></td></tr><tr><td></td><td>✓</td></tr><tr><td></td><td>✓</td></tr></table>	✓		✓			✓		✓	D) <table border="1"><tr><td>✓</td><td></td></tr><tr><td>✓</td><td></td></tr><tr><td>✓</td><td></td></tr><tr><td></td><td>✓</td></tr></table>	✓		✓		✓			✓
	✓																																		
	✓																																		
✓																																			
✓																																			
✓																																			
	✓																																		
	✓																																		
✓																																			
✓																																			
✓																																			
	✓																																		
	✓																																		
✓																																			
✓																																			
✓																																			
	✓																																		

**2. Aşağıdaki oyuncaklardan hangisi ile günümüzde daha az oynanmaktadır?**



3.  Eğimli dağ yamaçlarında biriken karın kütleler hâlinde koparak aşağıya doğru düşmesidir.

 Toprağın kütleli bir hareketle kayarak yer değiştirmesidir.

 Sürekli yağan yağmur veya eriyen karlardan oluşan, geçtiği yerlere zarar veren taşkın sudur.

**Sembollerle verilen açıklamalar ve doğal afetler hangisinde doğru eşleştirilmiştir?**

A) ● → Heyelan	B) ● → Çiğ
★ → Çiğ	★ → Heyelan
▲ → Sel	▲ → Sel
C) ● → Sel	D) ● → Heyelan
★ → Çiğ	★ → Sel
▲ → Heyelan	▲ → Çiğ

**4. Mustafa Kemal Atatürk'ün Büyük Millet Meclisini açma sebebi hangisidir?**

- A) Millî egemenliği sağlamak  
 B) Kadınlara birtakım haklar vermek  
 C) Ülkemizin sınırlarını belirlemek  
 D) 1. Dünya Savaşı'na son vermek



5. • Çamaşır ve bulaşık makinelerimizi ekonomik programda çalıştıralım.  
• Giyeceklerimizi tek tek değil, biriktirip topluca ütüleyelim.  
• Buzdolabımızı güneş ışığı görmeyecek şekilde yerleştirelim.

**Bu uyarılar aşağıdakilerden hangisi ile ilgilidir?**

- A) Ekmek israfını önleme  
B) Bilinçli elektrik tüketimi  
C) Suyu tasarruflu kullanma  
D) Zamanı verimli kullanma

6. **Aşağıdakilerden hangisi çocukların sahip olduğu haklardan biri değildir?**

- A) Kendileri istiyorsa okula gitmeyip istedikleri herhangi bir işte çalışmak  
B) Beslenme, hastalıklara karşı aşılama ve nitelikli sağlık hizmeti almak  
C) Ailelerini ilgilendiren kararlar alınırken söz sahibi olmak  
D) Savaştan ve şiddetten uzak, sağlıklı ve güvenli bir çevrede yaşamak

7. **Aşağıdaki öğrencilerden hangisi okulda üstlendiği sorumluluklardan bahsetmiştir?**

- A) **Özgür:** Kirlenen kıyafetlerimi çamaşır sepetine atarım.  
B) **Merve:** Akşam yemeği için sofrayı kurmaya yardım ederim.  
C) **Mutlu:** Bayram kutlamaları ve törenlerde görev alırım.  
D) **Yaren:** Kuşumun yemini ve suyunu veririm.

8. **Aşağıdaki ifadelerden hangisi okuldaki eğitsel ve sosyal etkinliklere katılmanın öğrencilere kazandırdıklarından biri olamaz?**

- A) Yapararak, yaşayarak öğrenme  
B) Sorumlulukları arkadaşlarına yükleme  
C) Kendine güven duygusunu kazanma  
D) Yeni dostluklar kurma

9. Kurtuluş Savaşı'nda Güney Cephesi'ndeki mücadeleler Sakarya Zaferi'ne kadar devam etmişti. Zaferin ardından Fransızlar, Güney ve Güneydoğu Anadolu topraklarında tutunamayacaklarını anlamışlardı. 20 Ekim 1921'de TBMM Hükûmeti ile antlaşma imzalayıp işgal altında tuttıkları Adana ve Antep'ten çekilmişlerdi.

**Bu metinde söz edilen antlaşma aşağıdakilerden hangisidir?**

- A) Gümrü Antlaşması  
B) Mondros Ateşkes Antlaşması  
C) Ankara Antlaşması  
D) Mudanya Ateşkes Antlaşması

10. **Meteoroloji Genel Müdürlüğü ile ilgili,**

- I. Kamuoyunun ihtiyaç duyduğu meteorolojik bilgi ve tahminleri hazırlar.  
II. Hava olaylarından kaynaklanabilecek doğal afetlere karşı halkı ve yetkilileri uyarır.  
III. Tarımsal faaliyetlerde bulunanlara yardımcı olur.

**İfadelerinden hangileri doğrudur?**

- A) I ve II  
B) I ve III  
C) II ve III  
D) I, II ve III

**DİN KÜLTÜRÜ VE AHLAK BİLGİSİ DERSİNİ OKUYANLAR BU SORULARI CEVAP KÂĞIDININ SOSYAL BİLGİLER (11-15) KISMINA İŞARETLEYECEKLERDİR.**

**11.** Müşrikler Müslümanlarla yaptıkları Hudeybiye Antlaşması'nı bozdular. Bunun üzerine Hz. Muhammed (s.a.v.) büyük bir orduyla şehre hareket etti. Savaş yapmadan şehri fethetti. Kâbe'yi putlardan temizledi.

**Bu metinde belirtilen olay aşağıdakilerden hangisidir?**

- A) Bedir Savaşı                      B) Hendek Savaşı  
C) Mekke'nin Fethi                D) Uhud Savaşı

**12.** Hz. Muhammed (s.a.v.) kendisine peygamberlik görevi verildikten sonra insanları İslam'a davete başladı. Bunlardan birinde Hz. Zeyd (r.a.) ile birlikte gittiği Mekke yakınlarındaki bir yerin halkı, daveti kabul etmedikleri gibi Hz. Peygamber'i de (s.a.v.) taşlamışlardır.

**Bu metinde hakkında bilgi verilen yer aşağıdakilerden hangisidir?**

- A) Taif                                      B) Medine  
C) Mekke                                  D) Habeşistan

**13.** Ehl-i Beyt ile ilgili bilgilerden hangisi yanlıştır?

- A) Hz. Muhammed'in (s.a.v.) ailesine Ehl-i Beyt denir.  
B) Amentü duasını okurken Ehl-i Beyt'teki kişilerin isimleri söylenir.  
C) Hz. Muhammed'in torunları Hz. Hasan ve Hz. Hüseyin Ehl-i Beyt'tendir.  
D) Hz. Muhammed'in (s.a.v.) kızı Hz. Fatıma ve eşi Hz. Ali Ehl-i Beyt'tendir.

**14.** Salli ve Barik dualarıyla ilgili verilen bilgilerden hangisi yanlıştır?

- A) Salli ve Barik dualarına "Sübhanek" duası da denir.  
B) Peygamberimize (s.a.v.) salavat getirirken okunur.  
C) Salli Duası'nın Anlamı: Allah'ım Hz. Muhammed'e ve ailesine tıpkı Hz. İbrahim'e ve ailesine salât ettiğin gibi salât et. Şüphesiz Sen; en çok övülen ve en yüce olansın.  
D) Namazların son oturuş bölümlerinde okunur.

**15.** Rabb'in kendisinden başkasına asla ibadet etmemenizi, ana-babaya iyi davranmanızı kesin olarak emretti. Eğer onlardan biri ya da her ikisi senin yanında ihtiyarlık çağına ulaşırsa sakın onlara "Öf!" bile deme; onları azarlama; onlara tatlı ve güzel söz söyle. Onları esirgeyerek alçak gönüllülükle üzerlerine kanat ger ve "Rabbim! Küçüklüğümde onlar beni nasıl yetiştirmişlerse şimdi de sen onlara (öyle) rahmet et!" diyerek dua et.

(İsrâ suresi, 23-24. ayetler)

**Bu ayetlere göre anne ve babamıza davranışlarımızla ilgili,**

- I. Onlara iyi davranmalıyız.  
II. Onlarla güzel sözlerle konuşmalıyız.  
III. Onlar ihtiyarladığında onlar için dua etmeliyiz.

**yargılarından hangileri söylenebilir?**

- A) I ve II                                      B) I ve III  
C) II ve III                                  D) I, II ve III



**DİN KÜLTÜRÜ VE AHLAK BİLGİSİ DERSİNİ OKUMAYANLAR BU SORULARI CEVAP KÂĞIDININ SOSYAL BİLGİLER (11-15) KISMINA İŞARETLEYECEKLERDİR.**

11. I. Ev işlerinde anne babamıza yardım etmek  
II. Derslerimize günü gününe çalışmak  
III. Sağlık hizmeti almak  
IV. Eğitim almak

**Numaralanmış ifadeler hak ve sorumluluk olarak hangi seçenekte doğru sınıflandırılmıştır?**

	Hak	Sorumluluk
A)	I ve III	II ve IV
B)	I ve II	III ve IV
C)	III ve IV	I ve II
D)	II ve III	I ve IV

12.



**Görseldeki çocuklar aşağıdaki haklarından hangisini kullanmaktadır?**

- A) Eğitim hakkı  
B) Sağlık hakkı  
C) Oyun oynama hakkı  
D) Barınma hakkı

13. Aşağıdakilerden hangisi su israfını önlemek için alınan önlemlerden değildir?

- A) Bozuk muslukları tamir ettirmek  
B) Sıcak su temini için evimize güneş enerjisi ile ısıtma sağlayan sistemler kurmak  
C) Duş süresini mümkün olduğunca kısa tutmak  
D) Sebze ve meyveleri yıkadığımız suları biriktirip balkonumuzu yıkamak

14. Aşağıda bazı öğrencilerin aldığı sorumluluklar verilmiştir.

- Esmâ, her gün odasını toplar.
- Kıvanç, erken uyanır ve okula geç kalmaz.
- Sevgi, ödevlerini zamanında yapar.
- Beren, çöpleri çöp kutusuna atar.

**Buna göre, hangi öğrencinin aldığı sorumluluk çevre ile ilgilidir?**

- A) Beren  
B) Esmâ  
C) Kıvanç  
D) Sevgi

15. Hatalı kullanılan teknolojik ürünler sağlığımızı olumsuz yönde etkileyebilir.

**Buna göre, aşağıdakilerden hangisi göz sağlığımızı olumsuz etkiler?**


- A) Güneş ışığına benzer ışık veren lambaların tercih edilmesi  
B) Gece ders çalışırken masa lambası kullanılması  
C) Işık kaynağının odayı tavandan veya duvardan yansıtılarak aydınlatması  
D) Işık parlaklığının gereğinden az veya çok olması

**Sosyal bilgiler testi bitti.  
Fen bilimleri testine geçiniz.**

1. Thomas Edison tarafından icat edilmiştir. Sesin kaydedilmesini ve kaydedilen sesin dinlenmesini sağlayan bir araçtır.
- Günümüzde sıklıkla kullanılır. Hem ses hem de görüntü kaydedebilir.
- Sesin şiddetini artırmak ve uzak mesafelerden duyulabilmesini sağlamak amacıyla kullanılan taşınabilir araçtır.
- İşitme sorunu yaşayan insanların kullandığı bir cihazdır. Sesin şiddetini artırır.

Yukarıdaki renkli kartların ön yüzlerinde ses üreten teknolojik araçların görseli, arka yüzünde ise bu araçla ilgili bilgi yer almaktadır.

**Buna göre renkli kartların hangisinin ön yüzündeki görsel ve arka yüzündeki bilgi uyuşmamaktadır?**



2. • Hem bitkisel hem de hayvansal ürünlerden elde edilebilir.  
• Vücudumuza enerji sağlar.  
• Fazlası depolandığı için obeziteye sebep olabilir.  
• Vücudumuzu soğuğa ve darbelere karşı korur.

**Yukarıda maddeler hâlinde özellikleri verilen besin içeriği hangisidir?**

- A) Su B) Mineral  
C) Protein D) Yağ

3. **Aşağıdaki davranışlardan hangisi bilinçli bir tüketiciye ait olamaz?**

- A) Bir ürün veya hizmet satın alırken ihtiyaçlarını göz önünde tutar.  
B) Aynı işi daha fazla enerji tüketerek gerçekleştiren araçları satın alır.  
C) Aldığı ürünün kaliteli ve uygun fiyatta olmasına dikkat eder.  
D) Çevreye zarar vermeyen, güvenilir ürünleri satın alır.

4. **Aşağıdakilerden hangisi ses kirliliğine örnek olarak verilemez?**

- A) İnşaat alanlarında iş makinelerinin çıkardıkları sesler  
B) Sokak satıcılarının megafon vb. cihazları kullanarak çıkardıkları sesler  
C) Şiddetli yağış esnasında yağmur damlalarının çıkardığı sesler  
D) Yoğun trafikte motorlu taşıtların çıkardığı sesler

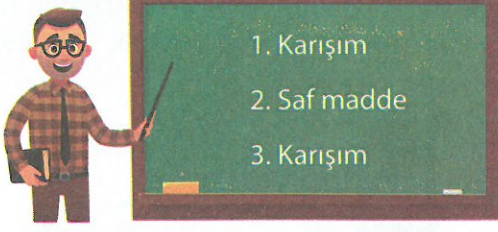
5. Katı bir maddenin ısı alarak sıvı hâle geçmesine -- 1 --, sıvı bir maddenin ısı alarak -- 2 -- hâle geçmesine buharlaşma denir.

**Buna göre, numaralanmış yerlere sırasıyla yazılması gereken kavramlar hangileridir?**

- A) erime - buharlaşma  
B) donma - sıvı  
C) buharlaşma - donma  
D) erime - gaz



6.



Yusuf Öğretmen tahtaya yukarıdaki kavramları yazarak öğrencilerinden bu kavramlara sırasıyla örnek vermesini istemiştir. Öğrencilerin örnekleri aşağıda verilmiştir.



1. ayran, 2. bakır, 3. salata

Duru

1. demir, 2. altın, 3. çorba



Emir



1. toprak, 2. limonata, 3. hava

Ayşe

1. kek, 2. gümüş, 3. turşu



Selim

**Hangi öğrenciler tahtadaki sıralamaya göre doğru örnekler vermişlerdir?**

- A) Duru - Selim      B) Emir - Ayşe  
C) Emir - Selim      D) Duru - Ayşe

7.

Kendine özgü şekli olan ve dışarıdan bir etki olmadıkça şekil değiştirmeyen maddedir.

**Bu özelliği taşıyan madde hangisinde doğru verilmiştir?**

A)



Ayran

B)



Kalem

C)



Duman

D)



Sirke

8.



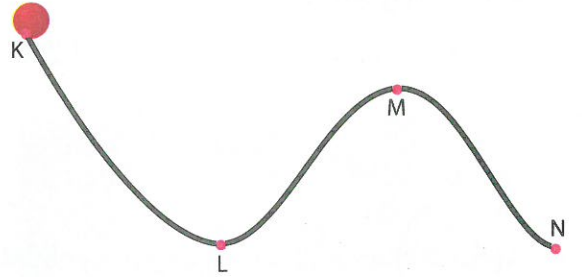
Yeliz

İnsanları rahatsız eden şiddetli seslerin oluşturduğu kirliliğe ses kirliliği ya da gürültü denir. Ses kirliliğinin insan sağlığını tehdit eden birçok olumsuz etkisi vardır. Ses kirliliğini önlemek için ----.

**Yeliz'in yukarıdaki cümlesi hangi ifade ile tamamlanamaz?**

- A) taşıtların kullandıkları yolların kenarları ağaçlandırılmalıdır  
B) fabrikalar ve diğer sanayi kuruluşları şehir dışına taşınmalıdır  
C) ev ve iş yerleri inşa edilirken duvarlar yalıtım malzemesi ile kaplanmalıdır  
D) yerleşim merkezi olarak stadyum ve havalanı yakınları tercih edilmelidir

9. Aşağıdaki K noktasından serbest bir şekilde bırakılan top N noktasına kadar hareket etmiştir.







**Topun hareketi ile ilgili aşağıda verilen bilgilerden hangisi yanlıştır?**

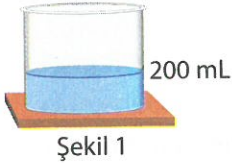
- A) L ve M noktaları arasında yavaşlama hareketi yapar.  
B) L ve N noktaları arasında önce yavaşlar, sonra hızlanır.  
C) K ve M noktaları arasında önce yavaşlar, sonra hızlanır.  
D) M ve N noktaları arasında hızlanma hareketi yapar.



10. Aşağıdakilerden hangisi ses kaydetmek için kullanılan araçlardan biri değildir?

- A)  B) 
- C)  D) 

11. Aşağıda verilen Şekil 1'deki içi su dolu dereceli kabın içerisine üç tane özdeş silgi atılmıştır. Silgiler atıldıktan sonra su seviyesi Şekil 2'deki konuma yükselmiştir.







Buna göre Şekil 2'deki dereceli kaptan silgilerden biri çıkartıldığında suyun seviyesi kaç mL'yi gösterir?

- A) 200 B) 225 C) 250 D) 260

12. Aşağıdakilerden hangisi uygun aydınlatma kurallarına göre yanlış bir uygulamadır?

- A) Aydınlatma aracı seçerken aydınlatılacak ortamın hacmine göre ışık kaynağı seçmek
- B) Farklı renkte ışık kaynakları kullanarak ortamı mümkün olduğunca parlak ışıklarla aydınlatmak
- C) Masa lambası kullanıyorsak ışığın çalışma alanımızı aydınlatmasını sağlamak
- D) Işık kaynağının doğrudan göze gelmesini önleyerek ışığı aydınlatılacak ortama yönlendirmek

13. Aşağıdaki aydınlatma araçlarından hangisi aydınlatma işini yapabilmek için elektriğe ihtiyaç duymaz?

- A)  B) 
- C)  D) 

14. Bulaşık makinesini, zorlanmaması için tam doldurmadan çalıştırmalıyız.
- Çabuk bozulan besinleri fazla miktarda satın almamalıyız.
- Televizyonu kullanmadığımızda kumandadan kapattıktan sonra fişini de çekmeliyiz.

Tasarrufla ilgili tabloda verilen bilgilerden doğru olanların karşısına "✓" sembolü koyulacaktır.

Buna göre tablonun görünümünü nasıl olur?

- A) 

✓
✓

 B) 

✓
✓
✓

 C) 

✓
✓

 D) 

✓
✓

15. • Geçmişte yaşayan canlıların taşlaşmış kalıntılarına ---- denir.
- Ekonomik değeri olan kayaçlara ---- denir.
- Kayaçların sert, yumuşak veya parlak oluşunu yapısını oluşturan ---- belirler.


Aşağıdaki kavramlardan hangisi verilen cümlelerdeki boşluklardan herhangi birine yazılamaz?

- A) maden B) manto
- C) mineraller D) fosil

**Fen bilimleri testi bitti.  
İngilizce testine geçiniz.**



1.



Görsele göre cümleyi tamamlayan seçenek hangisidir?

- A) plant trees                      B) do experiment  
C) make a hole                      D) water the plant

2.



Mete : What time is it?

Sema : It is ---- .

Görsele göre cümleyi tamamlayan seçenek hangisidir?

- A) half past ten                      B) half past nine  
C) ten o'clock                      D) seven o'clock

3.



She is a ---- .

Görsele göre cümleyi tamamlayan seçenek hangisidir?

- A) doctor                              B) fireman  
C) teacher                              D) postman

4.



I ---- in the morning.

Görsele göre cümleyi tamamlayan seçenek hangisidir?

- A) have breakfast                      B) brush my teeth  
C) go to school                      D) wash my face

5.



It is snowy and cold in ---- .

Cümleyi tamamlayan seçenek hangisidir?

- A) summer                              B) spring  
C) winter                              D) autumn

## 6. Hangi eşleştirme yanlıştır?

A)



climb a tree

B)



take pictures

C)



catch a ball

D)



ride a bike

7.



Zeynep is from ----. She is Turkish.

Cümleyi tamamlayan seçenek hangisidir?

A) Türkiye

B) Germany

C) France

D) the USA

8.



Öğretmen ne söylemiş olabilir?

A) Open the door

B) Close the window

C) Look at the board

D) Go out

9.



Görsele göre cümleyi tamamlayan seçenek hangisidir?

A) playing chess

B) riding a bike

C) playing table tennis

D) swimming

10.



Roy : Can you ----?

Patsy : Yes, I can. I'm a basketball player.

Görsele göre cümleyi tamamlayan seçenek hangisidir?

A) ride a horse

B) jump high

C) sing a song

D) play the guitar

Test bitti. Yanıtlarınızı kontrol ediniz.